

## Assemblage de figures (programme de construction)

### Je découvre

Le texte suivant donne les indications pour tracer une figure.

Éva, Max et Tom ont tracé chacun une figure.

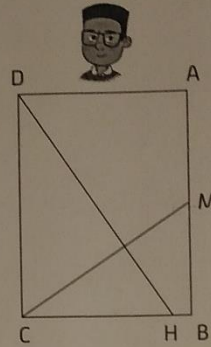
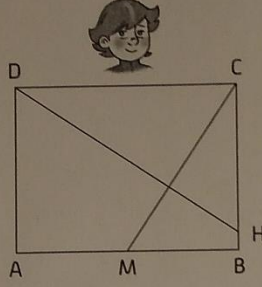
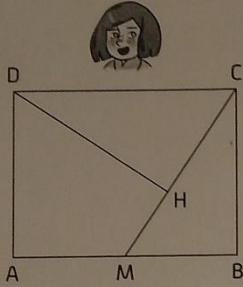
Qui a tracé la figure correspondant au texte ? Entoure son visage s'il ou si elle a réussi.

« Trace un rectangle ABCD dont la longueur [AB] mesure 4 cm et la largeur [BC] mesure 3 cm.

Place le point M milieu du côté [AB].

Trace le segment [MC].

Trace le segment [DH] qui est perpendiculaire au segment [MC] et avec H qui est un point du côté [BC]. »



MÉMO  
A  
p. 54

### Je m'exerce

1

Entoure la ou les figure(s) qui correspond(ent) au programme de construction suivant.

Trace un demi-cercle de centre C et de diamètre [AB]. Ce diamètre mesure 4 cm.

Trace le segment [CD] perpendiculaire à [AB] avec D un point du demi-cercle.

Place le point E tel que C soit le milieu de [DE].

Trace les segments [AE], [CE] et [BE].

Figure 1

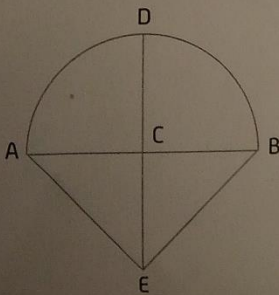


Figure 2

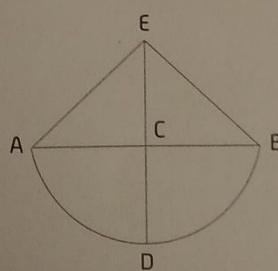
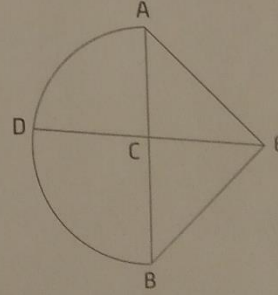


Figure 3



2

Sur une feuille, reproduis la figure 1 de l'exercice 1 en prenant 5 cm comme diamètre pour le demi-cercle.