




**O**n a réparti 5,4 kg de confiture de cerises dans 19 pots de 3 tailles différentes.  
Sur chaque étagère, il y a exactement le même poids de confiture.  
*Quelle quantité de confiture chaque pot contient-il ?*



	= ? kg
	= ? kg
	= ? kg

*Notes:*