




Compte caddy 3

Calcule sur ton cahier ce que l'on va devoir payer pour ces courses.
Regarde bien le prix de chaque produit et la quantité achetée.



Papa perd la tête






Regarde la liste de Papa.

A-t-il tout pris ou a-t-il oublié des choses?

Quelle est la différence entre ce qu'il pensait payer et ce qu'il va devoir payer?

Dessine les pièces et les billets qu'il devra utiliser.



3 X 	=	<input checked="" type="checkbox"/>
1 X 	=	<input checked="" type="checkbox"/>
4 X 	=	<input checked="" type="checkbox"/>
2 X 	=	<input checked="" type="checkbox"/>
1 X 	=	<input checked="" type="checkbox"/>
= 48.70 euro ?		