


1

Dans chaque cas, **complète** les pointillés, puis **place** le point **P** repéré par le nombre 4 et le point **M** repéré par le nombre 6.

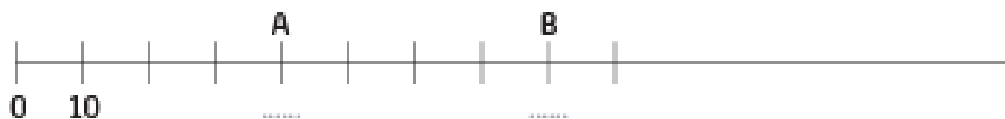
☑ Repérage sur une droite graduée



2

Dans chaque cas, **complète** les pointillés, puis **place** le point **P** repéré par le nombre 20 et le point **M** repéré par le nombre 50.


☑ Repérage sur une droite graduée



Compétences • 1 Repérer une position sur une droite graduée de 1 en 1.
 • 2 Repérer une position sur une droite graduée de 10 en 10.

1 2 Acquise(s)
 1 2 Partiellement acquise(s)
 1 2 Non acquise(s)

2: jaune 4: orange 6: rouge 8: violet 10: bleu clair
 12: vert clair 14: blanc 16: marron 18: vert foncé 20: bleu foncé



Comment se créer un gabarit d'angle droit?

		
<p>Prends une feuille de papier et plie-la en deux.</p>	<p>Plie-la de nouveau en deux. Place bien les deux plis l'un sur l'autre.</p>	<p>Tu obtiens une équerre. Colorie l'angle droit en rouge.</p>

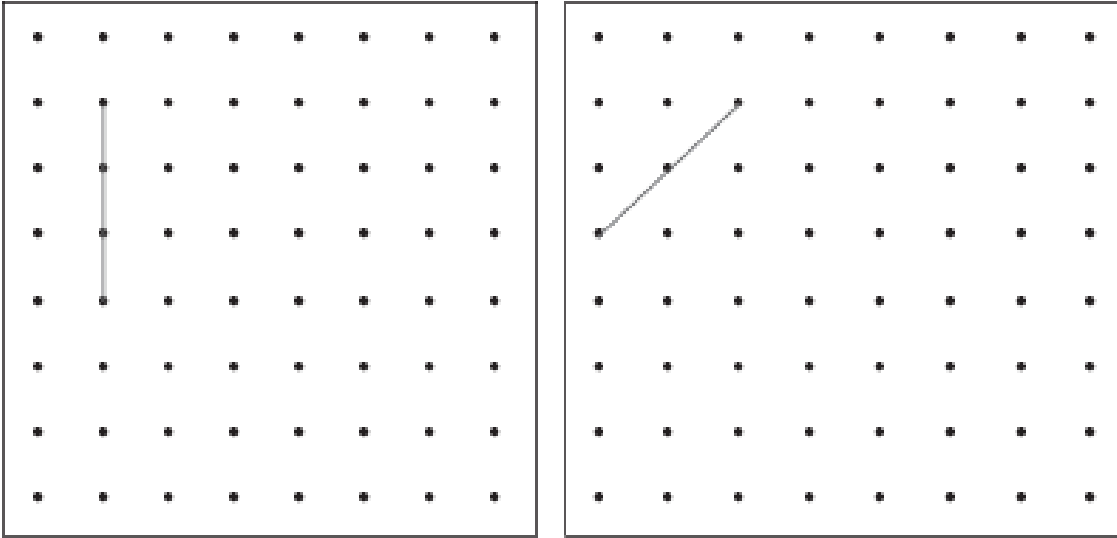


Tu peux aussi utiliser du matériel de la maison, comme des plaques de légo, ou un cd...

Tracé de carrés et de rectangles

Activité 1

Complète deux carrés dont l'un des côtés est déjà tracé.
Il faut compléter les carrés avec votre règle et un gabarit d'angle droit.



Lorsque tu as terminé, l'exercice 1, regarde la correction.

Activité 2

Complète la partie « ce que j'ai découvert » p 104
Fais l'exercice 1 page 104.


Ce que j'ai découvert

Pour tracer un angle droit à partir d'un côté déjà tracé,
j'utilise le gabarit d'angle droit.....

1. Je place le gabarit à une extrémité du côté déjà tracé et le long de ce côté.
2. Je trace le nouveau côté le long de l'autre côté du gabarit.

Activité 3

Complète le carré dont un côté est déjà tracé.
Le côté mesure 3 cm. Utilise ton gabarit d'angle droit et ta règle.



Lorsque tu as terminé, l'exercice 1, regarde la correction.

Activité 4

Fais l'exercice n°2 page 105



Petits Problèmes

21

La tante de Lisa lui a offert une belle boîte de crayons décorés. Lisa a sorti 11 crayons et il en reste 24 dans la boîte.

Combien de crayons contient la boîte?



Petits Problèmes

Alex est monté dans le cerisier de sa grand-mère et a cueilli 128 cerises. Il en donne 39 à Lisa.

Combien lui reste-t-il de cerises ?



Petits Problèmes

Moustik a distribué toutes les cartes d'un jeu entre lui et ses deux amis. Chacun a reçu 8 cartes.

Combien de cartes y a-t-il dans ce jeu ?

