

Mardi 9 juin 2020

« 2 exercices et dictée à faire dans le cahier de plan de travail. »

Conjugaison

Conjugué les verbes au passé composé.

Elle (se coucher) tôt.

Je (se préparer) un sandwich. (garçon)

Vous (se protéger) contre le virus. (garçons)

Elles (se relaxer) dans la salle de judo.

Tu (se déguiser) en soldat. (fille)

Nous (se retourner) ensemble. (filles)

Il (se laver) le soir.


Nous (se dépêcher). (garçons)

Vous (se lever) en même temps. (filles)

Ils (se disputer) souvent.

Géométrie

Colorie les triangles rectangles en jaune



Dictée

Tu as voulu mettre le bouquet dans un vase. Il a habité là-bas. La griffe est restée au centre. J'ai regardé le mauvais prix. Ils ont fabriqué des masques. Elles sont arrivées le soir.

« Liste 3 à recopier dans le carnet. »

Liste 30

une idée

un animal

préparer

un poil

doux

une jambe

le bras

la chaise

la table

le ventre

« Lire plusieurs fois les mots puis faire la dictée de mots dans le cahier de français. »

« Compléter le tableau avec les mots de la liste 30 dans le cahier de français. »

nom	déterminant	adjectif	verbe	pronom

« Tu vas faire un exercice de conjugaison dans le cahier de français. Attention, il y a des verbes utilisant l’auxiliaire avoir et d’autres utilisant l’auxiliaire être. »

Conjugaison

Conjugué les verbes au passé composé.

Elles (regarder) un film.

Elles (rester) tard.

Il (entrer) dans ta chambre.

Ils (jouer) pendant 2 heures.

Elle (arriver) en avance.

Elle (travailler) longtemps.

Ils (tomber) les uns sur les autres.

Il (ranger) ses jouets.

Je (se coucher) à 21h. (fille)

Tu (rêver) dans ton sommeil. (garçon)

« Voici une première vidéo pour te souvenir du triangle rectangle. »

<https://lesfondamentaux.reseau-canope.fr/discipline/mathematiques/geometrie-du-plan/triangle-rectangle/reconnaitre-un-triangle-rectangle.html>

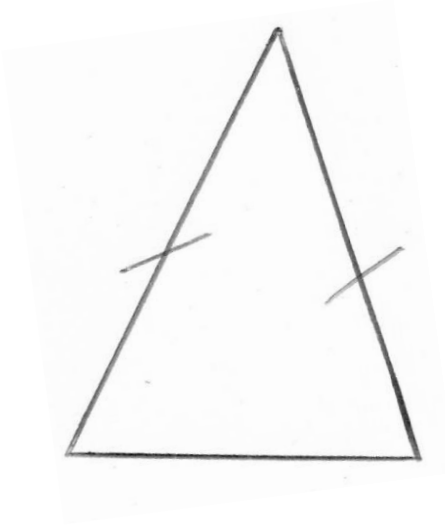
« Deuxième vidéo pour te présenter un autre triangle particulier : le triangle isocèle. »

<https://lesfondamentaux.reseau-canope.fr/discipline/mathematiques/geometrie-du-plan/triangle-isocèle/reconnaitre-un-triangle-isocèle.html>

« Comme tu l’as vu, le triangle isocèle est un triangle qui a deux côtés de même longueur. Tu vas coller la leçon dans ton cahier de leçons en mathématiques. »

Le triangle isocèle


Un triangle isocèle est un triangle qui a 2 côtés de même longueur.



« Exercice à faire dans le cahier de mathématiques. »

Géométrie

Colorie les triangles isocèles en orange



« Lecture à faire dans le cahier de français. »

Lecture

- 1) Nicolas tremblait un peu. Certes, sa gencive était douloureuse. Mais l'idée même de la roulette le terrifiait davantage.
Où est Nicolas ?
- 2) Sans perdre un instant, François prit sa pelle et commença à creuser le sable. Il construisit un château et le consolida avec du goémon.
Où est François ?

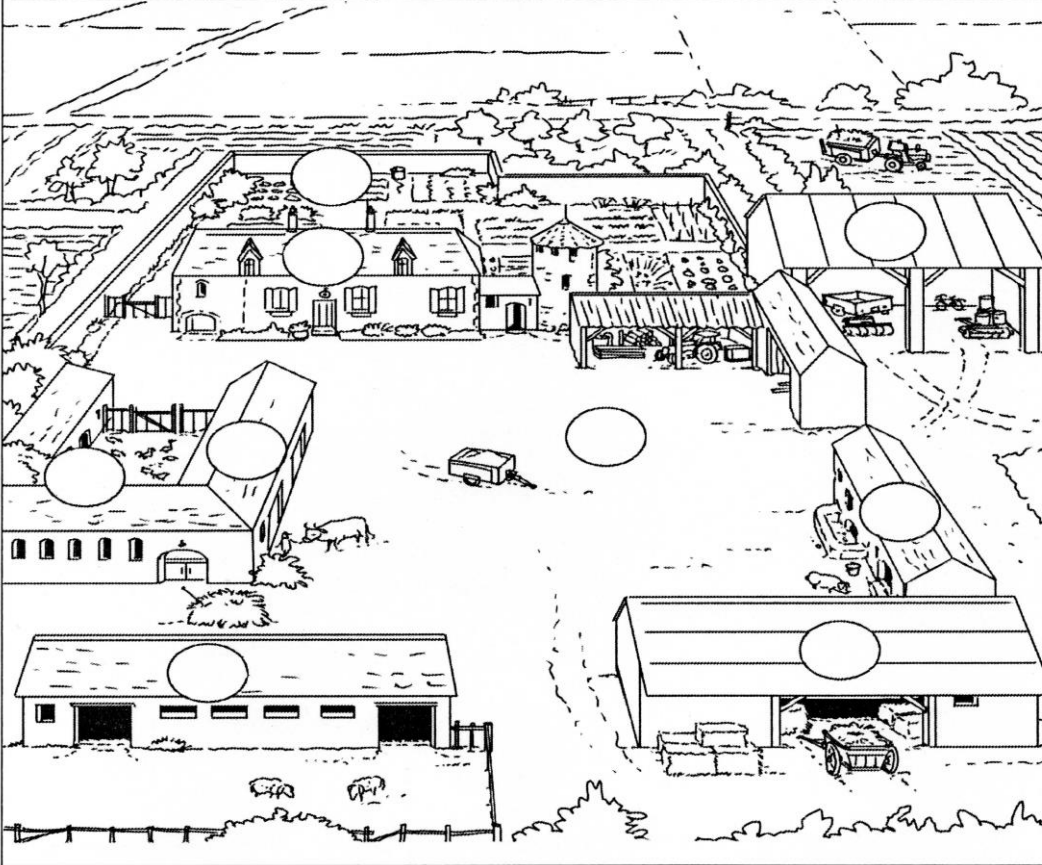
3) Les numéros se succèdent...plus merveilleux les uns que les autres.
 Mais ce que guette Sarah, c'est l'arrivée des fauves.
 Où est Sarah ?

« Tu vas compléter les documents 1, 2 et 3. »

questionner le monde ... questionner le monde ... questionner le monde ... questionner le monde ... questionner le monde ...

DOC 3 : Dans une ferme

Retrouve les différentes parties de la ferme et écris les numéros au bon endroit.



- ① l'étable
- ② la porcherie
- ③ la bergerie
- ④ la grange
- ⑤ l'habitation
- ⑥ le hangar
- ⑦ le potager
- ⑧ la cour
- ⑨ la basse-cour

Colorie la ferme
 avec des couleurs
 vraisemblables.

Quelles sont les caractéristiques d'un paysage rural ?


DOC 1 : Paysage de campagne

Colorie en jaune les champs cultivés, en vert clair les prés, en bleu la rivière et l'étang.


Colorie la ferme, les animaux, le tracteur, les arbres avec d'autres couleurs de ton choix.

Place les mots suivants sur le dessin :

une ferme – une colline – un étang – une rivière – un champ – un troupeau.



DOC 2 : A la campagne



Colorie avec des crayons de couleur. Utilise des couleurs vraisemblables.

« Maintenant, tu vas copier le résumé sur une feuille de classeur en complétant les trous. »

Les caractéristiques du paysage rural

Les sont des étendues de terre cultivées. On y fait pousser des plantes (céréales, fourrages, légumes, fruits, fleurs, plantes industrielles...)

Les sont des étendues de terre non cultivées. Un est recouvert d'herbe pour nourrir les animaux(vaches, veaux, bœufs, chevaux...)

Un est une parcelle de terre plantée d'arbres fruitiers.

Pré / verger / prés / champs

« Documents et résumé à ranger dans le classeur après la leçon sur la ville. »