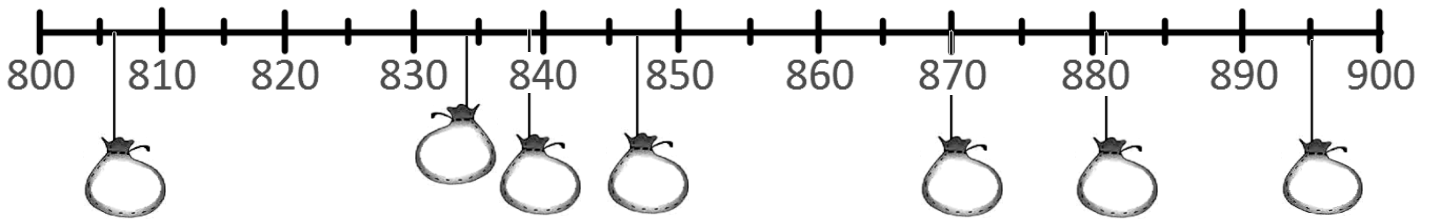


Prénom :

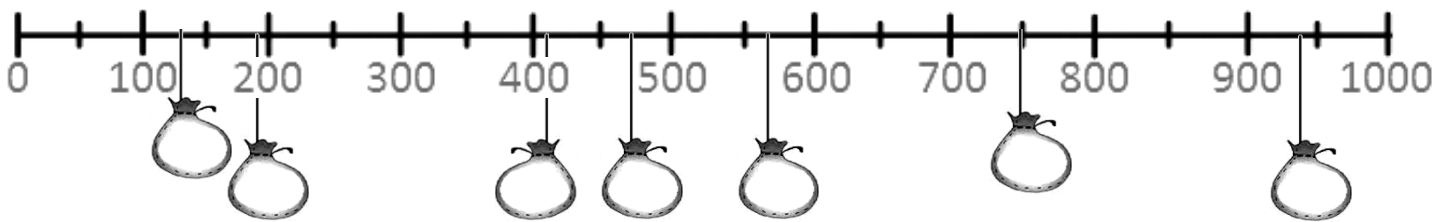
Date :

LA DROITE GRADUÉE (3)

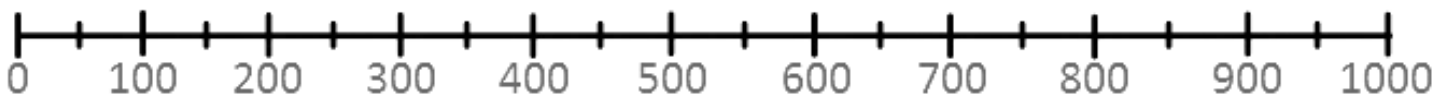
1- **Place** les nombres dans les sacs. 870 839 806 895 847 834 881




2- **Place** les nombres dans les sacs. 750 470 194 131 412 939 567




3- **Dessine** les sacs et **place** les nombres. 420 650 30 260 830 990 550



4- Dans chaque train, **écris** la **dizaine** qui est **avant** et celle qui est **après**.



5- Dans chaque train, **écris** la **centaine** qui est **avant** et celle qui est **après**.



6- **Complète** les trains.

